
















Рабочий лист. 5 класс. Нахождение части числа

1	<p>В матче баскетбольная команда набрала 112 очков. Лучший игрок этой команды заработал четверть всех очков. Сколько очков заработали все остальные игроки команды вместе?</p>	
2	<p>В книге 87 страниц. Стас уже прочитал две трети всех страниц. Сколько страниц осталось прочитать Стасу?</p>	
3	<p>В школе 80 пятиклассников. Три пятых всех пятиклассников поехали на экскурсию в музей, а остальные пошли в театр. Сколько пятиклассников пошло в театр?</p>	
4	<p>В школе 98 пятиклассников. Пять седьмых всех пятиклассников поехали на экскурсию в музей, а остальные пошли в театр. Сколько пятиклассников пошло в театр?</p>	
5	<p>В магазин завезли овощи. Две седьмых всех овощей — помидоры, а три седьмых всех овощей — огурцы. Сколько килограммов помидоров завезли в магазин, если огурцов завезли 105 кг?</p>	

6	<p>В магазин завезли овощи. Три седьмых всех овощей — помидоры, а две седьмых всех овощей — огурцы. Сколько килограммов помидоров завезли в магазин, если огурцов завезли 84 кг?</p>	
7	<p>В магазин завезли овощи. Две девярых всех овощей — огурцы, а пять девярых всех овощей — картофель. Сколько килограммов огурцов завезли в магазин, если картофеля завезли 135 кг?</p>	
8	<p>В магазин завезли овощи. Три седьмых всех овощей — картофель, а две седьмых всех овощей — помидоры. Сколько килограммов помидоров завезли в магазин, если картофеля завезли 147 кг?</p>	
9	<p>В классе 25 учеников. Из них три пятых — мальчики. Сколько девочек учится в классе?</p>	
10	<p>В художественной мастерской работает 27 мастеров. Из них две трети — гончары, а остальные — художники. Сколько художников работает в мастерской?</p>	

11	В школе 90 пятиклассников. Две пятых всех пятиклассников поехали на экскурсию в музей, а остальные пошли в театр. Сколько пятиклассников пошло в театр?	
12	В магазин завезли овощи. Две седьмых всех овощей — помидоры, а три седьмых всех овощей — огурцы. Сколько килограммов помидоров завезли в магазин, если огурцов завезли 105 кг?	
13	В магазин завезли овощи. Три седьмых всех овощей — помидоры, а две седьмых всех овощей — огурцы. Сколько килограммов помидоров завезли в магазин, если огурцов завезли 84 кг?	
14	В вагоне электропоезда 56 мест для сидения, три четверти мест занято. Сколько свободных мест в вагоне?	
15	В табуне 84 лошади. Треть из них гнедые, а остальные вороные. Сколько в табуне лошадей вороной масти?	

16	В классе 25 учеников. Из них три пятых — мальчики. Сколько девочек учится в классе?	
17	Строится дом, в котором 32 этажа. Уже возвели $\frac{5}{8}$ всех этажей. Сколько этажей осталось возвести?	
18	В классе 30 учеников, из них две пятых — девочки. Сколько мальчиков учится в классе?	