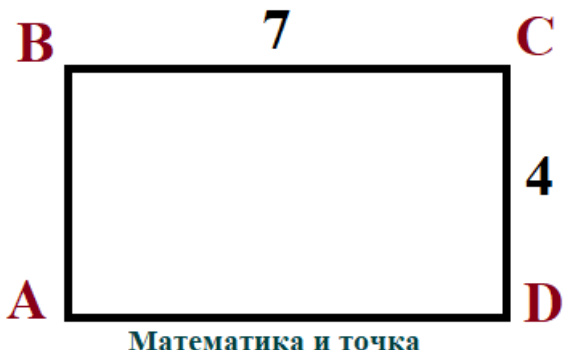


Рабочий лист. Площадь квадрата и прямоугольника. Геометрия 8 класс

ФИО _____

Дата: _____

Найти S_{ABCD}



Найти S_{ABCD}




Ответ:

Ответ:

Найти S_{ABCD}



$P=30, AD=4DC$ Найти S_{ABCD}



Ответ:


Ответ:

Найти S_{ABCD}



$P=36, AD:DC=2:1$

Найти S_{ABCD}

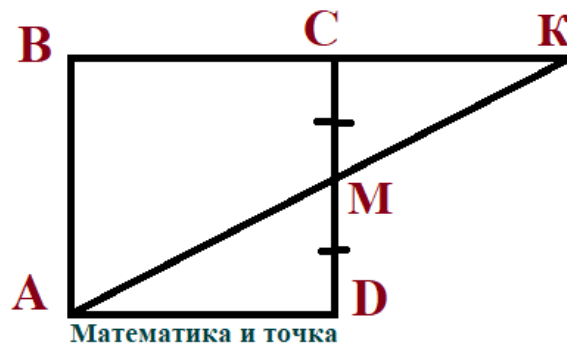


$AE = 2,5 \sqrt{3}$

Найти S_{ABCD}



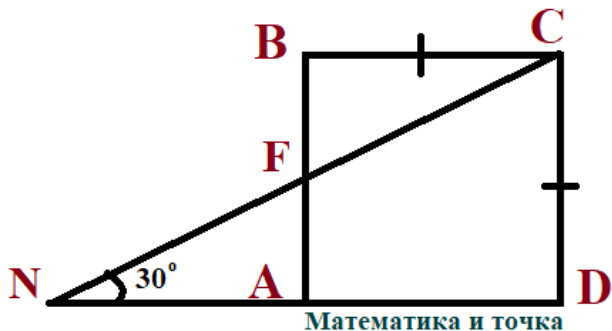
Найти S_{ABCD} $S_{\triangle AKB} = 33$



Ответ:

Ответ:

$NC = 20$ см Найти S_{ABCD}



Два земельных участка окружены забором одинаковой длины. Один участок квадратной формы, а другой – прямоугольной со сторонами 160 м и 220 м. Площадь какого участка меньше и на сколько?



Ответ:

Ответ: